

WYPEŁNIA ZDAJĄCY

KOD

--	--	--

PESEL

--	--	--	--	--	--	--	--	--	--

**Miejsce na naklejkę.**

Sprawdź, czy kod na naklejce to  
**M-K00**.

Jeżeli tak – przyklej naklejkę.  
Jeżeli nie – zgłoś to nauczycielowi.

**Egzamin maturalny**

**Formuła 2023**

# MATEMATYKA

## Poziom podstawowy

**TEST DIAGNOSTYCZNY**

Symbol arkusza

MMAP-P0-**K00**-2312

DATA: **7 grudnia 2023 r.**

GODZINA ROZPOCZĘCIA: **9:00**

CZAS TRWANIA: **180 minut**

LICZBA PUNKTÓW DO UZYSKANIA: **46**

WYPEŁNIA ZESPÓŁ NADZORUJĄCY


Uprawnienia zdającego do:

- dostosowania zasad oceniania
- dostosowania w zw. z dyskalkulią
- nieprzenoszenia zaznaczeń na kartę.




**Przed rozpoczęciem pracy z arkuszem egzaminacyjnym**

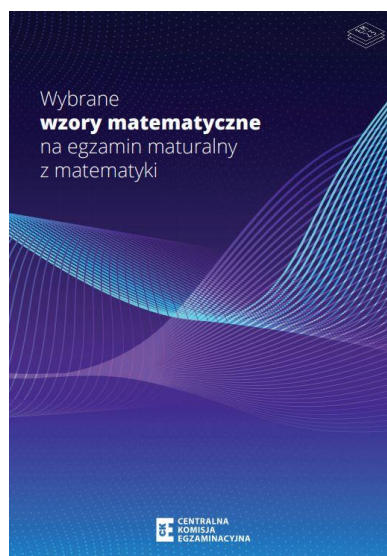
1. Sprawdź, czy nauczyciel przekazał Ci **właściwy arkusz egzaminacyjny**, tj. arkusz we **właściwej formule**, z **właściwego przedmiotu** na **właściwym poziomie**.
2. Jeżeli przekazano Ci **niewłaściwy** arkusz – natychmiast zgłoś to nauczycielowi. Nie rozrywaj banderol.
3. Jeżeli przekazano Ci **właściwy** arkusz – rozerwij banderole po otrzymaniu takiego polecenia od nauczyciela. Zapoznaj się z instrukcją na stronie 2.





## Instrukcja dla zdającego

1. Sprawdź, czy arkusz egzaminacyjny zawiera 33 strony (zadania 1–30).  
Ewentualny brak zgłoś przewodniczącemu zespołu nadzorującego egzamin.
2. Na pierwszej stronie arkusza oraz na karcie odpowiedzi wpisz swój numer PESEL i przyklej naklejkę z kodem.
3. Symbol  zamieszczony w nagłówku zadania oznacza, że rozwiązanie zadania zamkniętego musisz przenieść na kartę odpowiedzi. Ocenie podlegają wyłącznie odpowiedzi zaznaczone na karcie odpowiedzi.
4. Odpowiedzi do zadań zamkniętych zaznacz na karcie odpowiedzi w części karty przeznaczonej dla zdającego. Zamaluj  pola do tego przeznaczone. Błędne zaznaczenie otocz kółkiem  i zaznacz właściwe.
5. Pamiętaj, że pominięcie argumentacji lub istotnych obliczeń w rozwiązaniu zadania otwartego może spowodować, że za to rozwiązanie nie otrzymasz pełnej liczby punktów.
6. Rozwiązania zadań i odpowiedzi wpisuj w miejscu na to przeznaczonym.
7. Pisz czytelnie i używaj tylko długopisu lub pióra z czarnym tuszem lub atramentem.
8. Nie używaj korektora, a błędne zapisy wyraźnie przekreśl.
9. Pamiętaj, że zapisy w brudnopisie nie będą oceniane.
10. Możesz korzystać z *Wybranych wzorów matematycznych*, cyrkla i linijki oraz kalkulatora prostego. Upewnij się, czy przekazano Ci broszurę z okładką taką jak widoczna poniżej.



**Zadania egzaminacyjne są wydrukowane  
na następnych stronach.**

**Zadanie 1. (0–1)**

Dokończ zdanie. Wybierz właściwą odpowiedź spośród podanych.

Liczba  $\left(3^{-2,4} \cdot 3^{\frac{2}{5}}\right)^{\frac{1}{2}}$  jest równa

A.  $\sqrt{3}$

B.  $\frac{\sqrt{3}}{3}$

C.  $\frac{1}{3}$

D. 0,3

Brudnopis

**Zadanie 2. (0–1)**

Dokończ zdanie. Wybierz właściwą odpowiedź spośród podanych.

Liczba  $\log_2 96 - \log_2 3$  jest równa

A.  $\log_2 93$

B.  $\log_2 30$

C. 4

D. 5

Brudnopis



**Zadanie 3. (0–1)**

Pan Grzegorz wpłacił do banku pewną kwotę na lokatę dwuletnią. Po każdym rocznym okresie oszczędzania bank doliczał odsetki w wysokości 5% od kwoty bieżącego kapitału znajdującego się na lokacie. Po dwóch latach oszczędzania pan Grzegorz odebrał z tego banku wraz z odsetkami kwotę 4851 zł (bez uwzględnienia podatków).

**Dokończ zdanie. Wybierz właściwą odpowiedź spośród podanych.**

Kwota wpłacona przez pana Grzegorza na tę lokatę była równa

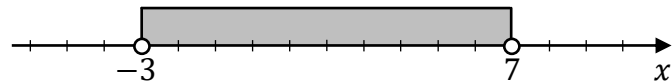
- A. 4300 zł                  B. 4400 zł                  C. 4500 zł                  D. 4600 zł

*Brudnopis*

<i>Brudnopis</i>																								

**Zadanie 4. (0–1)**

Na osi liczbowej zaznaczono przedział.



**Dokończ zdanie. Wybierz właściwą odpowiedź spośród podanych.**

Zbiór zaznaczony na osi jest zbiorem wszystkich rozwiązań nierówności


- A.  $|x - 2| < 5$                                   B.  $|x - 2| > 5$   
 C.  $|x - 5| < 2$                                   D.  $|x - 5| > 2$

*Brudnopis*

<i>Brudnopis</i>																								

**Zadanie 5. (0–2)**

**Wykaż, że dla każdej liczby całkowitej nieparzystej  $n$  liczba  $3n^2 + 4n + 1$  jest podzielna przez 4.**



**Zadanie 6. (0–1)**

Dany jest układ równań  $\begin{cases} x - 3y + 5 = 0 \\ 2x + y + 3 = 0 \end{cases}$

**Dokończ zdanie. Wybierz właściwą odpowiedź spośród podanych.**

Rozwiązaniem tego układu równań jest para liczb

**A.**  $x = 1$  i  $y = 2$

**B.**  $x = 0$  i  $y = -3$

**C.**  $x = -2$  i  $y = 1$

**D.**  $x = -1$  i  $y = -1$

<i>Brudnopis</i>																			

**Zadanie 7. (0–1)**

**Dokończ zdanie. Wybierz właściwą odpowiedź spośród podanych.**

Dla każdej liczby rzeczywistej  $x$  różnej od  $(-3)$  i  $(-2)$  wartość wyrażenia

$\frac{x+3}{x^2+4x+4} \cdot \frac{x^2+2x}{2x+6}$  jest równa wartości wyrażenia

**A.**  $\frac{x}{2}$

**B.**  $\frac{x}{4}$


**C.**  $\frac{x}{2x+4}$


**D.**  $\frac{x^3+3x^2}{6x^2+24x+24}$

<i>Brudnopis</i>																			








**Zadanie 10. (0–1)** 

Funkcja liniowa  $f$  jest określona wzorem  $f(x) = -\frac{1}{6}x + \frac{2}{3}$ .

Oceń prawdziwość poniższych stwierdzeń. Wybierz P, jeśli stwierdzenie jest prawdziwe, albo F – jeśli jest fałszywe.

Miejszem zerowym funkcji $f$ jest liczba 4.	P	F
Punkt przecięcia wykresu funkcji $f$ z osią $Oy$ ma współrzędne $(0, -\frac{1}{6})$ .	P	F

*Brudnopis*





**Zadanie 11.2. (0–1)**

Zapisz poniżej w postaci przedziału zbiór wszystkich argumentów, dla których funkcja  $f$  przyjmuje wartości ujemne.

.....

<i>Brudnopis</i>																									

**Zadanie 11.3. (0–2)**

Uzupełnij zdanie. Wybierz **dwie** właściwe odpowiedzi spośród oznaczonych literami A–F i wpisz te litery w wykropkowanych miejscach.

Wzór funkcji  $f$  można przedstawić w postaci: ..... oraz .....

A.  $f(x) = \frac{1}{2}(x - 2)(x - 6)$

B.  $f(x) = \frac{1}{2}(x - 4)^2 - 2$

C.  $f(x) = 2(x - 2)(x - 6)$


D.  $f(x) = \frac{1}{2}(x + 4)^2 - 2$

E.  $f(x) = 2(x + 2)(x + 6)$

F.  $f(x) = 2(x + 4)^2 - 2$

<i>Brudnopis</i>																									

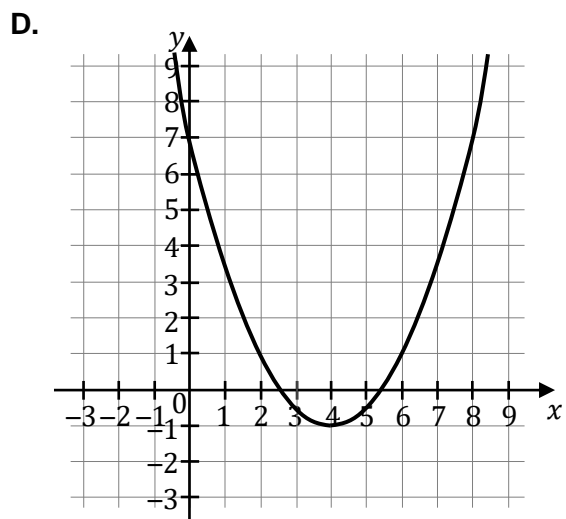
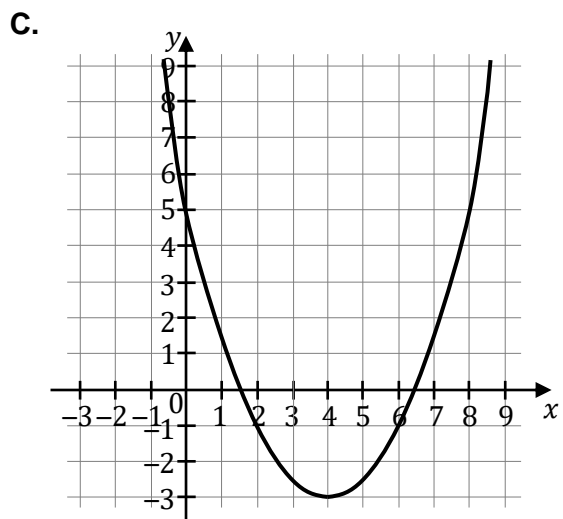
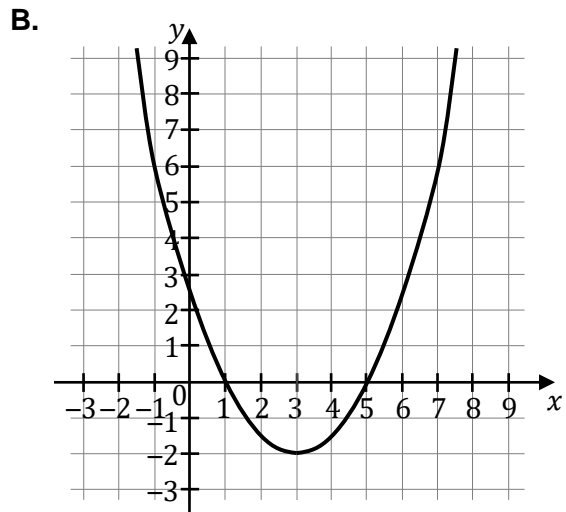
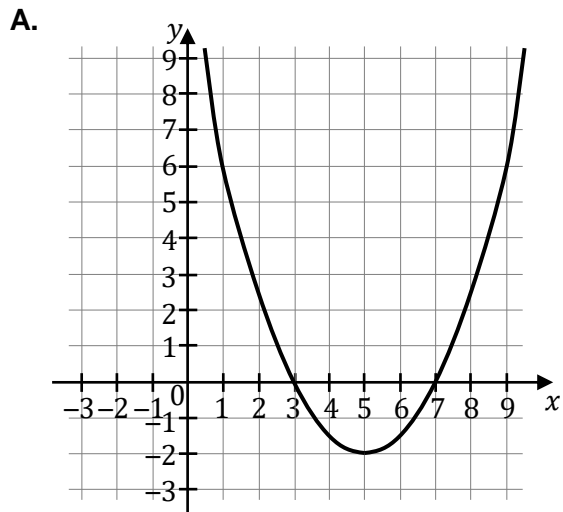


**Zadanie 11.4. (0-1)**  


Funkcja kwadratowa  $g$  jest określona za pomocą funkcji  $f$  (zobacz rysunek na stronie 11) następująco:  $g(x) = f(x + 1)$ . Na jednym z rysunków A-D przedstawiono, w kartezjańskim układzie współrzędnych  $(x, y)$ , fragment wykresu funkcji  $y = g(x)$ .

**Dokończ zdanie. Wybierz właściwą odpowiedź spośród podanych.**

Fragment wykresu funkcji  $y = g(x)$  przedstawiono na rysunku



<i>Brudnopis</i>									

**Zadanie 12. (0–1)** 


Proces stygnięcia naparu z ziół w otoczeniu o stałej temperaturze  $22\text{ }^{\circ}\text{C}$  opisuje funkcja wykładnicza  $T(x) = 78 \cdot 2^{-0,05x} + 22$ , gdzie  $T(x)$  to temperatura naparu wyrażona w stopniach Celsjusza ( $^{\circ}\text{C}$ ) po  $x$  minutach liczonych od momentu  $x = 0$ , w którym zioła zalano wrzątkiem.

**Dokończ zdanie. Wybierz właściwą odpowiedź spośród podanych.**

Temperatura naparu po 20 minutach od momentu zalania ziół wrzątkiem jest równa

- A.  $22\text{ }^{\circ}\text{C}$                       B.  $39\text{ }^{\circ}\text{C}$                       C.  $78\text{ }^{\circ}\text{C}$                       D.  $61\text{ }^{\circ}\text{C}$

<i>Brudnopis</i>																			

**Zadanie 13. (0–1)** 

Ciąg arytmetyczny  $(a_n)$  jest określony dla każdej liczby naturalnej  $n \geq 1$ . W tym ciągu  $a_2 = 4$  oraz  $a_3 = 9$ .

**Dokończ zdanie. Wybierz właściwą odpowiedź spośród podanych.**

Szósty wyraz ciągu  $(a_n)$  jest równy

- A. 24                      B. 29                      C. 36                      D. 69

<i>Brudnopis</i>																			




**Zadanie 14. (0–1)**


Ciąg  $(a_n)$  jest określony dla każdej liczby naturalnej  $n \geq 1$ . Suma  $n$  początkowych wyrazów tego ciągu jest określona wzorem  $S_n = 4 \cdot (2^n - 1)$  dla każdej liczby naturalnej  $n \geq 1$ .

Oceń prawdziwość poniższych stwierdzeń. Wybierz P, jeśli stwierdzenie jest prawdziwe, albo F – jeśli jest fałszywe.

Pierwszy wyraz ciągu $(a_n)$ jest równy 4.	P	F
Drugi wyraz ciągu $(a_n)$ jest równy 12.	P	F

*Brudnopis*


**Zadanie 15. (0–1)**



Trzywyrazowy ciąg  $(1 - 2a, 12, 48)$  jest geometryczny.

Dokończ zdanie. Wybierz właściwą odpowiedź spośród podanych.

Liczba  $a$  jest równa

- A.  $(-1)$       B. 3      C. 4      D. 12,5

*Brudnopis*



**Zadanie 16. (0–2)**

Dane są dwa kąty o miarach  $\alpha$  oraz  $\beta$ , spełniające warunki:

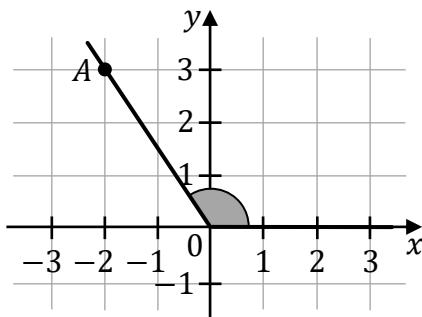
$$\alpha \in (0^\circ, 180^\circ) \text{ i } \operatorname{tg} \alpha = -\frac{2}{3} \text{ oraz } \beta \in (0^\circ, 180^\circ) \text{ i } \cos \beta = \frac{1}{\sqrt{10}}.$$

Na rysunkach A–F w kartezjańskim układzie współrzędnych  $(x, y)$  zaznaczono różne kąty – w tym kąt o mierze  $\alpha$  oraz kąt o mierze  $\beta$ . Jedno z ramion każdego z tych kątów pokrywa się z dodatnią półosią  $Ox$ , a drugie przechodzi przez jeden z punktów o współrzędnych całkowitych:  $A$  lub  $B$ , lub  $C$ , lub  $D$ , lub  $E$ , lub  $F$ .

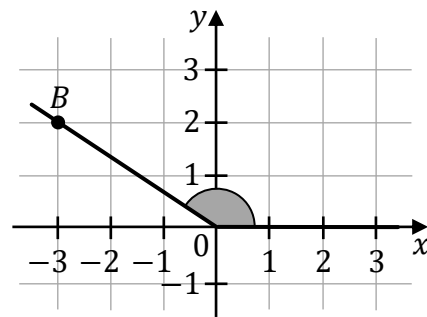
Uzupełnij tabelę. Wpisz w każdą pustą komórkę tabeli właściwą odpowiedź, wybraną spośród oznaczonych literami A–F.

16.1.	Kąt $\alpha$ jest zaznaczony na rysunku	
16.2.	Kąt $\beta$ jest zaznaczony na rysunku	

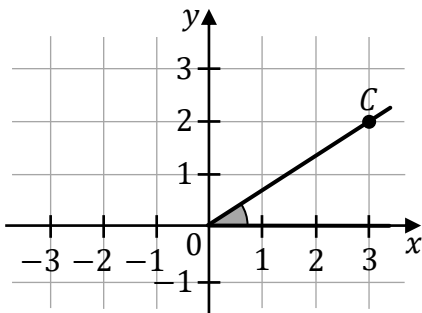
A.



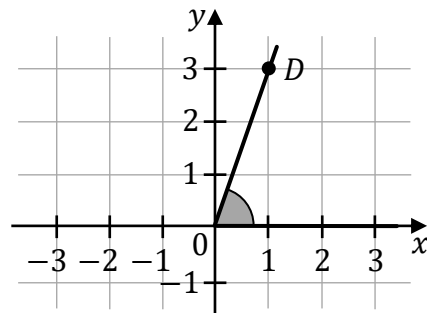
B.



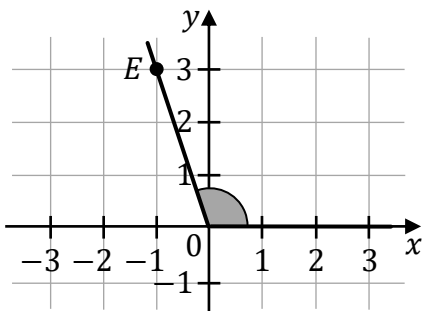
C.



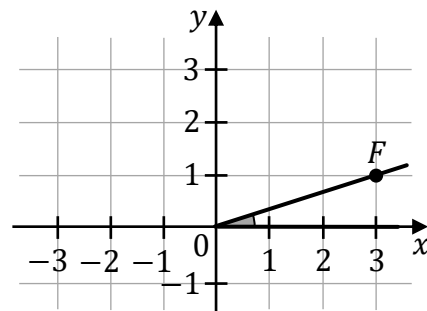
D.



E.





F.





Brudnopis

**Zadanie 17. (0–1)**  

Kąt  $\alpha$  jest ostry oraz  $\sin \alpha = \frac{\sqrt{5}}{3}$ .

**Dokończ zdanie. Wybierz właściwą odpowiedź spośród podanych.**

Tangens kąta  $\alpha$  jest równy


A.  $\frac{\sqrt{5}}{2}$

B.  $\frac{2}{3}$

C.  $\frac{2\sqrt{5}}{5}$

D.  $\frac{3\sqrt{5}}{5}$

Brudnopis

**Zadanie 18. (0–1)** 

W kartezjańskim układzie współrzędnych  $(x, y)$  dana jest prosta  $l$  o równaniu  $y = \frac{3}{2}x - \frac{15}{2}$ . Prosta  $k$  jest prostopadła do prostej  $l$  i przechodzi przez punkt  $P = (6, 0)$ .

**Dokończ zdanie. Wybierz właściwą odpowiedź spośród podanych.**

Prosta  $k$  ma równanie


A.  $y = \frac{3}{2}x + 6$

B.  $y = -\frac{2}{3}x + 6$

C.  $y = \frac{3}{2}x - 9$

D.  $y = -\frac{2}{3}x + 4$

<i>Brudnopis</i>																			

**Zadanie 19. (0–1)** 

W kartezjańskim układzie współrzędnych  $(x, y)$  dane są proste  $k$  oraz  $l$  o równaniach

$$k: y = -\frac{1}{2}x - 7$$

$$l: y = (2m - 1)x + 13$$

**Dokończ zdanie. Wybierz właściwą odpowiedź spośród podanych.**

Proste  $k$  oraz  $l$  są równoległe, gdy

A.  $m = \left(-\frac{1}{2}\right)$

B.  $m = \frac{1}{4}$

C.  $m = \frac{3}{2}$

D.  $m = 2$

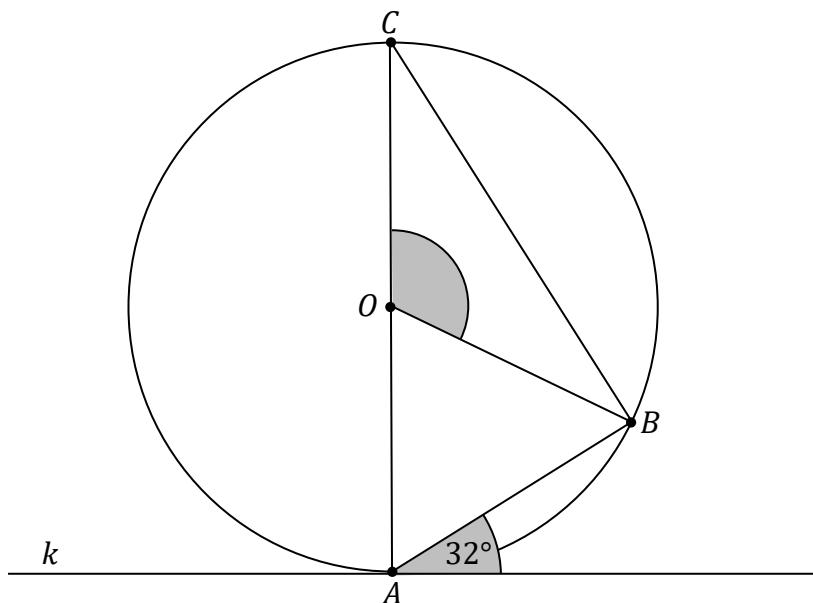
<i>Brudnopis</i>																			





**Zadanie 22. (0–1)**

Punkty  $A$ ,  $B$  oraz  $C$  leżą na okręgu o środku w punkcie  $O$ . Prosta  $k$  jest styczna do tego okręgu w punkcie  $A$  i tworzy z cięciwą  $AB$  kąt o mierze  $32^\circ$ . Ponadto odcinek  $AC$  jest średnicą tego okręgu (zobacz rysunek).



**Dokończ zdanie. Wybierz właściwą odpowiedź spośród podanych.**

Miara kąta rozwartego  $BOC$  jest równa


A.  $148^\circ$

B.  $116^\circ$

C.  $154^\circ$

D.  $122^\circ$

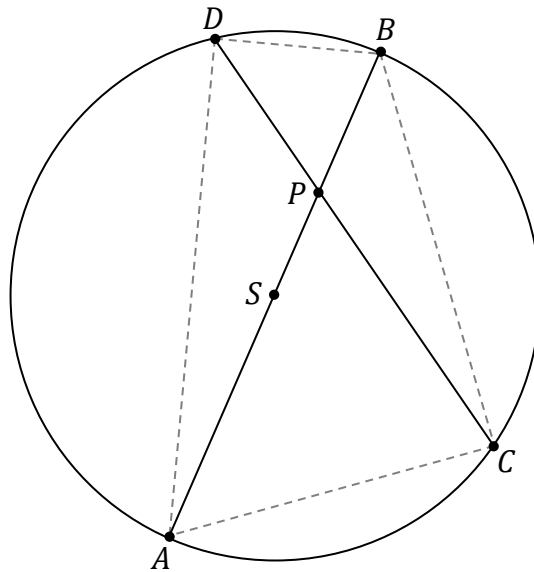
Brudnopis






**Zadanie 24. (0–2)**

Dany jest okrąg  $\mathcal{O}$  o środku w punkcie  $S$ . Średnica  $AB$  tego okręgu przecina cięciwę  $CD$  w punkcie  $P$  (zobacz rysunek). Ponadto:  $|PB| = 4$ ,  $|PC| = 8$  oraz  $|PD| = 5$ .



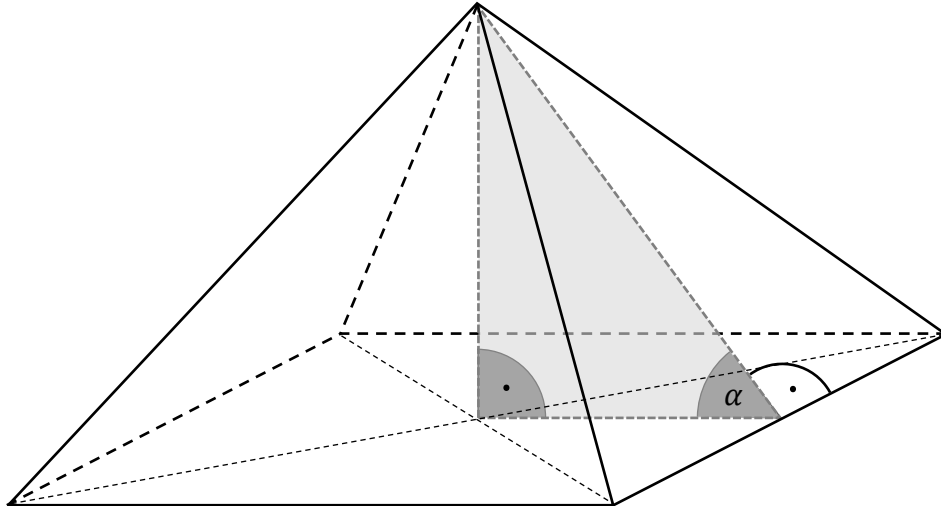
Oblicz promień okręgu  $\mathcal{O}$ . Zapisz obliczenia.






**Zadanie 26. (0–3)**


Objętość ostrosłupa prawidłowego czworokątnego jest równa 384. Wysokość ściany bocznej tego ostrosłupa tworzy z płaszczyzną podstawy kąt o mierze  $\alpha$  taki, że  $\operatorname{tg} \alpha = \frac{4}{3}$  (zobacz rysunek).



**Oblicz wysokość ściany bocznej tego ostrosłupa. Zapisz obliczenia.**







### Zadanie 27. (0–2)


E-dowód ma zapisany na pierwszej stronie specjalny sześciocyfrowy numer CAN, który zabezpiecza go przed odczytaniem danych przez osoby nieuprawnione.

**Oblicz, ile jest wszystkich sześciocyfrowych numerów CAN o różnych cyfrach, spełniających warunek: trzy pierwsze cyfry są kolejnymi wyrazami ciągu arytmetycznego o różnicy  $(-3)$ . Zapisz obliczenia.**

A large grid for writing calculations, consisting of 30 columns and 30 rows of small squares.






**Zadanie 29.2. (0–1)** 

Dokończ zdanie tak, aby było prawdziwe. Wybierz odpowiedź A albo B oraz jej uzasadnienie 1., 2. albo 3.

Dominanta masy 50 zważonych jabłek (w zaokrągleniu do pełnych dekagramów) z pobranej próby kontrolnej jest równa

<b>A.</b>	20 dag,	ponieważ	<b>1.</b>	ta masa jest największa w tej próbie.
			<b>2.</b>	iloczyn tej masy i liczby jabłek o takiej masie jest największy w tej próbie.
<b>B.</b>	23 dag,		<b>3.</b>	ta masa występuje najliczniej w tej próbie.


*Brudnopis*




**Zadanie 30. (0–4)**


Zgodnie z założeniem architekta okno na poddaszu ma mieć kształt trapezu równoramiennego, który nie jest równoległobokiem. Dłuższa podstawa trapezu ma mieć długość 12 dm, a suma długości krótszej podstawy i wysokości tego trapezu ma być równa 18 dm.

**Oblicz, jaką długość powinna mieć krótsza podstawa tego trapezu, tak aby pole powierzchni okna było największe. Oblicz to pole. Zapisz obliczenia.**






**BRUDNOPIS (nie podlega ocenie)**











# MATEMATYKA

Poziom podstawowy

*Formuła 2023*



# MATEMATYKA

Poziom podstawowy

*Formuła 2023*



# MATEMATYKA

Poziom podstawowy

*Formuła 2023*

